

01. Sobre o Estado de Pernambuco, analise as proposições abaixo:

- I.** Tendo Recife como sua capital, o Estado de Pernambuco possui extensão territorial de mais de 98.000 km² e figura como o sexto maior da região Nordeste.
- II.** O Rio São Francisco forma uma bacia hidrográfica em mais de 500 municípios do Brasil. No caso de Pernambuco, o rio abastece diversos municípios da zona da Mata Norte.
- III.** Com mais de 180km de extensão, o litoral de Pernambuco abriga diversas praias, como a de Boa Viagem, a de Carne de Vaca (litoral Norte) e a de Várzea do Una (litoral Sul).
- IV.** Com economia relevante para a região, Pernambuco tem vivenciado investimentos em setores, como automotivo, farmacêutico e de informática.

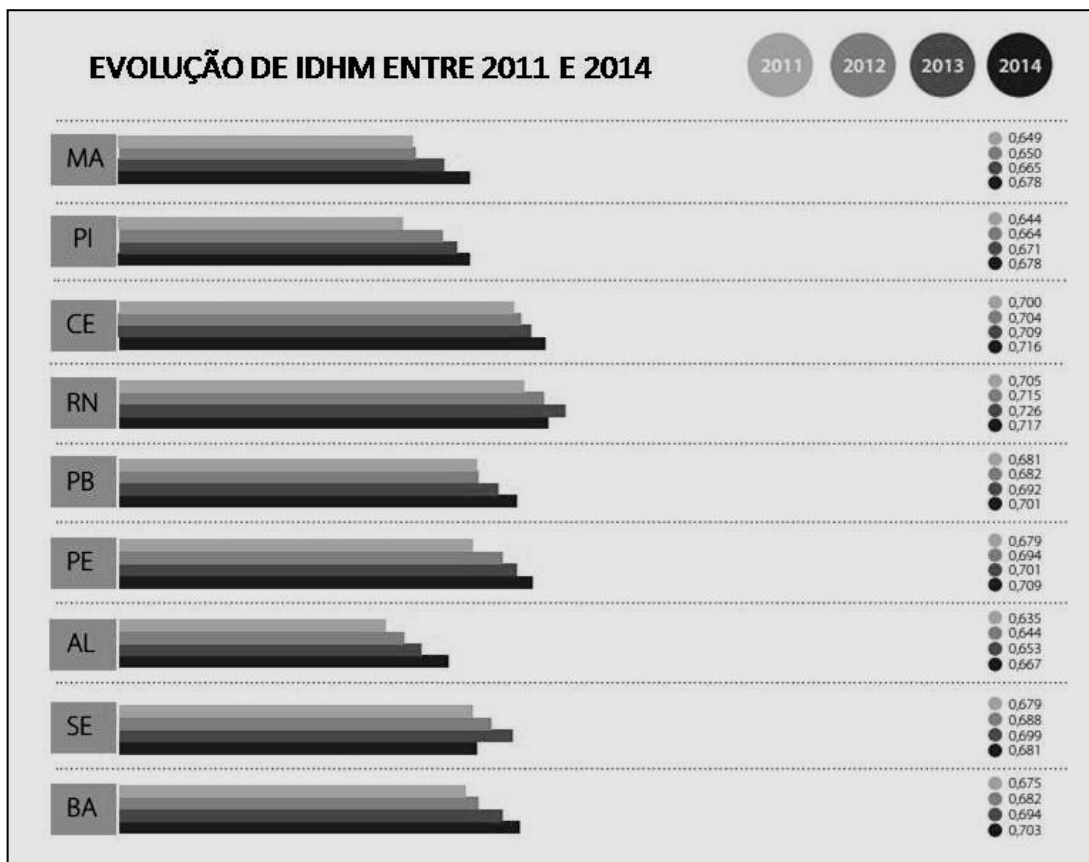
Está(ão) CORRETA(S)

- A) I, apenas.
 - B) I e III, apenas.
 - C) II e IV, apenas.
 - D) I, III e IV, apenas.
 - E) I, II, III e IV.
-

02. Sobre os aspectos humanos de Pernambuco, assinale a alternativa INCORRETA.

- A) O cultivo da cana-de-açúcar entre os séculos XVI e XVIII influenciou positivamente a economia do sertão pernambucano.
 - B) Merecem destaque, na porção Leste de Pernambuco, núcleos urbanos com taxas significativas de densidade demográfica.
 - C) A população urbana vem superando a população rural do Estado, sobretudo na Região Metropolitana do Recife.
 - D) Pernambuco detém significativas áreas de produção agrícola irrigada, fator que contribui para a economia do Estado.
 - E) Nas últimas décadas, a economia de Pernambuco apresentou crescimento em diversos setores, fato que contribuiu para o aumento do PIB da região.
-

03. A imagem abaixo evidencia dados de Índice de Desenvolvimento Humano Municipal - IDHM dos Estados da Região Nordeste entre 2011 e 2014.



FONTE: Atlas do Desenvolvimento Humano no Brasil. Radar IDHM. 2016.

Sobre os valores relacionados ao Estado de Pernambuco, assinale a alternativa CORRETA.

- A) Os valores expressos na imagem apontam índices crescentes, fato comum em todos os Municípios de Pernambuco e do Brasil.
- B) Para o cálculo do IDHM, utilizam-se dados de longevidade, educação e renda.
- C) Os índices de IDHM variam entre 0 (zero) e 10 (dez).
- D) Os municípios com taxas de IDHM abaixo de 5 (cinco) são característicos de países subdesenvolvidos.
- E) Pernambuco apresenta os maiores índices de IDHM em sua porção oeste.

04. Sobre a Economia de Pernambuco, assinale a alternativa INCORRETA.

- A) Diferentemente de outros estados, Pernambuco vivencia uma fase econômica em que as atividades de serviços e comércio são menores na Região Metropolitana do Recife e maiores no interior.
- B) Pernambuco apresenta grande potencial para o turismo, que atrai turistas por suas paisagens naturais, sua riqueza cultural e religiosa. Essas práticas contribuem para a economia da região.
- C) As modernas técnicas de irrigação aliadas às condições naturais do domínio semiárido permitem o desenvolvimento de polos de fruticultura, como no caso de Petrolina.
- D) A partir da segunda metade do século XX, Pernambuco vem apresentando regiões, que se destacam por apresentarem certo dinamismo econômico, sobretudo nas últimas décadas.
- E) No âmbito de tecnologia e inovação, Pernambuco sedia um dos principais parques tecnológicos do Brasil, que desenvolve produtos como softwares e serviços de Tecnologia da Informação e Comunicação - TIC's.

05. Considerando as proposições que tratam dos aspectos físicos de Pernambuco, coloque V nas afirmativas Verdadeiras e F nas Falsas.

- () Caracterizados por índices de precipitação pluviométrica abaixo de 400 mm, os municípios da zona da Mata Sul apresentam clima seco mesotérmico.
- () A distância de municípios do extremo oeste em relação ao mar explica a ocorrência de climas de monções com grandes cotas de amplitude térmica diárias.
- () A região do Agreste apresenta as maiores taxas de precipitações pluviométricas de Pernambuco.
- () As diversas formações geológicas recentes do relevo pernambucano conferem ao Estado as maiores cotas altimétricas do Brasil.
- () O território pernambucano é marcado por crescentes unidades de relevo acidentado em seu litoral e por topografias homogêneas no agreste e sertão.

Assinale a alternativa que contém a sequência CORRETA.

- A) F-V-V-F-V
 B) V-F-F-V-V
 C) V-V-F-F-V
 D) F-F-F-F-F
 E) V-V-V-V-V

06. Sobre a hidrografia de Pernambuco, assinale a alternativa que apresenta a sequência CORRETA dos municípios banhados pelos seguintes rios:

- I.** Rio Pajeú
II. Rio Capibaribe
III. Rio Una
IV. Rio Tracunhaém
V. Rio Arataca
VI. Rio Timbó

- A) São José do Egito; São Lourenço; Itapissuma; Nazaré da Mata; Serinhaém; Paulista.
 B) Serra Talhada; Recife; Palmares; Nazaré da Mata; Ilha de Itamaracá; Carpina.
 C) São José do Egito; Olinda; Rio Formoso; Orobó; Abreu e Lima; Flores.
 D) Serra Talhada; Recife; Barreiros; Nazaré da Mata; Itapissuma; Paulista.
 E) Flores; Camaragibe; Itapissuma; Tracunhaém; Palmares; Carpina.

07. Sobre as questões ambientais em Pernambuco, assinale a alternativa INCORRETA.

- A) Ações antrópicas como desmatamento podem trazer impactos para os diversos ecossistemas em todo o território pernambucano.
- B) A ausência de saneamento básico e de tratamento adequado para efluentes domésticos no Recife pode comprometer os índices de potabilidade dos rios.
- C) O investimento em indústria e comércio no agreste e sertão contribui diretamente para a resolução dos problemas ambientais do litoral pernambucano.
- D) Diversos municípios pernambucanos vêm sofrendo com índices crescentes de desertificação, o que pode comprometer a concepção de um meio ambiente equilibrado e conservado para as atuais e futuras gerações.
- E) Investimentos para o cumprimento da legislação que trata da questão ambiental pode ser uma importante ferramenta para a manutenção da sustentabilidade.

08. Sobre os movimentos culturais em Pernambuco, analise as proposições abaixo:

- | |
|--|
| <p>I. A construção da identidade cultural de Pernambuco teve a contribuição de diversos povos.</p> <p>II. A conjugação da dança ao gênero musical nascido em Pernambuco permitiu o reconhecimento do frevo como Patrimônio Cultural Imaterial da Humanidade.</p> <p>III. A riqueza cultural de Pernambuco é preservada pelos municípios com maior PIB em decorrência da grande densidade demográfica.</p> <p>IV. O sincretismo dos caboclos de lança caracteriza o Maracatu Rural com personagens e ritmos que reproduzem uma herança secular.</p> |
|--|

Está(ão) CORRETA(S) apenas

- A) I.
B) I e III.
C) II e III.
D) I, III e IV.
E) I, II e IV.
-

09. Sobre os aspectos sociais de Pernambuco, assinale a alternativa CORRETA.

- A) As maiores propriedades rurais de Pernambuco dedicam-se à policultura para abastecimento interno.
B) A Região Metropolitana do Recife – RMR atingiu em 2017 uma taxa populacional de quase dois milhões de habitantes.
C) Recife, Jaboatão dos Guararapes e Ingazeira são exemplos das cidades que mais apresentaram assassinatos em 2017.
D) A taxa de mortalidade infantil é um importante indicador social e apresenta, em Pernambuco, uma redução ao longo das últimas décadas.
E) A proporção de crianças e jovens frequentando a escola em Pernambuco caiu entre 1991 e 2010. Atualmente, esse quantitativo vem se recuperando.
-

10. Analise as proposições abaixo referentes ao clima e ao relevo de Pernambuco:

- | |
|---|
| <p>I. O clima tropical semiárido abrange a maior parte do território pernambucano.</p> <p>II. O planalto da Borborema propicia aos municípios, em sua porção oeste (barlavento), índices pluviométricos superiores a 2.000 mm anuais.</p> <p>III. Os municípios do agreste possuem as menores taxas pluviométricas anuais do Estado.</p> <p>IV. As maiores taxas de amplitude térmica localizam-se na porção leste do Estado.</p> |
|---|

Está(ão) CORRETA(S) apenas

- A) I.
B) I e III.
C) II e III.
D) I, III e IV.
E) I, II e IV.
-

TEXTO 1

(01) O servidor público é o indivíduo cuja atividade tem uma função social. Desta maneira, o servidor público (conhecido popularmente como funcionário público) trabalha para a administração do Estado, por exemplo, para uma prefeitura, um hospital público, uma escola pública ou em instituições de segurança nacional. Entende-se que o conjunto de serviços prestados pelo Estado deve ser gerenciado por servidores públicos, por isso eles trabalham para a comunidade, ou seja, para a população como um todo.

(02) Como regra geral, todo servidor público pode conseguir um emprego através da prestação de um concurso. Assim, podem concorrer todos os cidadãos que preencham os requisitos estabelecidos por lei em cada caso. Uma vez aprovado no exame, o servidor público pode assegurar seu lugar e obter um cargo de trabalho específico à sua função.

(03) Cada servidor público exerce sua atividade em determinada área. Por exemplo, existe o corpo de professores, de trabalhadores da saúde, da polícia, etc. Suas funções e atribuições, bem como os seus salários e condições de trabalho, são regulamentados por lei. Este tipo de regulamentação faz com que os servidores públicos não estejam sujeitos às leis do mercado próprias da atividade do setor privado, já que suas funções têm um caráter essencialmente social.

(04) A ideia fundamental que rege a atividade de um funcionário público é precisamente fornecer um serviço à sociedade. Esses trabalhadores existem em todos os países e têm um valor estratégico para o conjunto da sociedade. Todo funcionário ou servidor público tem um estatuto que regulamenta sua atividade em todos os sentidos. Esse estatuto estabelece as regras que delimitam suas funções, assim como o regime sancionador que pode atingir os trabalhadores.

(05) Do ponto de vista social, a atividade dos servidores públicos é avaliada como um posto de trabalho seguro e estável, diferentemente do vaivém da atividade privada. Pode-se dizer que é um trabalho invejado, especialmente em época de crise. Por outro lado, em certas ocasiões, os funcionários ou servidores públicos são percebidos de maneira crítica por alguns setores da sociedade (na maioria dos países, são bem conhecidas as piadas sobre funcionários públicos, assim como alguns comentários sobre suas condições de trabalho). No entanto, independentemente do tipo de avaliação feita sobre esses empregados, sua função social é indiscutível.

Disponível em: <http://queconceito.com.br/servidor-publico>. Acesso em: 08/07/2018. Adaptado.

11. O título de um texto pode destacar não só o seu tema como também o ponto de vista do autor sobre esse tema. Considerando o Texto 1, assinale o título que sintetiza o ponto de vista do autor acerca do serviço público.

- A) Serviço público: áreas de atuação
- B) Como conseguir um emprego público
- C) Requisitos legais para ser servidor público
- D) A função social do servidor público
- E) A estabilidade do serviço público

12. Analise as informações a seguir.

1. As pessoas que trabalham em instituições de segurança nacional são servidores públicos.
2. Para concorrer a uma vaga no serviço público, os cidadãos devem atender a alguns requisitos.
3. Servidores públicos têm os melhores salários, quando comparados aos da iniciativa privada.
4. No Brasil, a sociedade costuma reconhecer e admirar o trabalho dos servidores públicos.

Estão em conformidade com as informações do Texto 1,

- A) 1 e 2.
- B) 1 e 3.
- C) 1 e 4.
- D) 2 e 3.
- E) 2 e 4.

13. Pode-se admitir que uma palavra ou expressão está em relação de oposição com outra, quando entre elas se estabelece um contraste de sentidos. No Texto 1, observam-se sentidos opostos entre:

- A) servidor público e funcionário público.
 B) hospital público e escola pública.
 C) comunidade e população.
 D) estatuto e regras.
 E) serviço público e atividade privada.

14. No Texto 1, por meio da expressão destacada, o autor sinaliza equivalência de sentidos entre dois segmentos no seguinte trecho:

- A) “Entende-se que o conjunto de serviços prestados pelo Estado deve ser gerenciado por servidores públicos, por isso eles trabalham para a comunidade, ou seja, para a população como um todo.” (1º parágrafo)
 B) “Como regra geral, todo servidor público pode conseguir um emprego através da prestação de um concurso. Assim, podem concorrer todos os cidadãos que preencham os requisitos estabelecidos por lei”. (2º parágrafo)
 C) “Cada servidor público exerce sua atividade em determinada área. Por exemplo, existe o corpo de professores, de trabalhadores da saúde, da polícia, etc.” (3º parágrafo)
 D) “Este tipo de regulamentação faz com que os servidores públicos não estejam sujeitos às leis do mercado próprias da atividade do setor privado, já que suas funções têm um caráter essencialmente social.” (3º parágrafo)
 E) “Esse estatuto estabelece as regras que delimitam suas funções, assim como o regime sancionador que pode atingir os trabalhadores.” (4º parágrafo)

15. Acerca de elementos coesivos presentes no Texto 1, analise as afirmações a seguir.

1. A repetição da expressão “servidor público” em todos os parágrafos do texto contribui para a manutenção do tema ao longo de todo o texto.
2. No trecho: “Uma vez aprovado no exame, o servidor público pode assegurar seu lugar e obter um cargo de trabalho específico à sua função.”, o autor optou pelo uso de uma forma singular, mas o leitor deve perceber que a afirmação que vem na sequência vale para todos os servidores públicos.
3. No trecho: “Esses trabalhadores existem em todos os países e têm um valor estratégico para o conjunto da sociedade.”, as formas verbais “existem” e “têm” compartilham o mesmo sujeito, razão pela qual ele não precisou ser repetido antes de “têm”.
4. No trecho: “No entanto, independentemente do tipo de avaliação feita sobre esses empregados, sua função social é indiscutível.”, o segmento destacado deve ser compreendido como: “a função social desses empregados” (os funcionários públicos).

Estão CORRETAS:

- A) 1, 2 e 3, apenas.
 B) 1, 2 e 4, apenas.
 C) 1, 3 e 4, apenas.
 D) 2, 3 e 4, apenas.
 E) 1, 2, 3 e 4.

16. Releia:

“Pode-se dizer que [a atividade pública] é um trabalho invejado especialmente em época de crise. Por outro lado, em certas ocasiões, os funcionários ou servidores públicos são percebidos de maneira crítica por alguns setores da sociedade (...)”.

Com a expressão destacada, o autor:

- A) acrescenta novos argumentos a favor da vantagem de se ter um emprego público.
 B) argumenta a favor da importância de que se reveste a atividade pública na nossa sociedade.
 C) estabelece uma dúvida quanto a valorizar ou não o trabalho do servidor público na sociedade.
 D) introduz um contraste entre as formas como as pessoas veem o trabalho do servidor público.
 E) justifica por que alguns setores da sociedade depreciam o trabalho dos servidores públicos.

17. Assinale a alternativa na qual as normas da concordância foram plenamente atendidas.

- A) A maioria dos funcionários públicos que trabalham comigo cumpre suas obrigações satisfatoriamente.
- B) Antigamente, de fato, haviam muitos funcionários públicos que não valorizavam sua profissão.
- C) A má fama se generalizou no funcionalismo público porque não se considerou os bons trabalhadores.
- D) São melhores trabalhadores aqueles que se propõe a enfrentar os problemas diários com otimismo.
- E) Sem dúvida, tem havido uma renovação, e agora só resta poucos servidores públicos descomprometidos.

18. Palavras semelhantes na pronúncia, mesmo com sentidos e funções diferentes, podem suscitar dúvidas na escrita. Assinale a alternativa em que a palavra sublinhada está escrita com a grafia adequada para o sentido em que ela foi empregada no enunciado.

- A) Muitos criticam os servidores públicos, mais têm inveja de quem já conquistou sua vaga.
- B) Há quem diga que ele trabalha pouco, ou seja, pode-se dizer que ele é um mal servidor.
- C) Em tempos de crise, a procura por emprego público aumenta, por que todos buscam segurança.
- D) O servidor público deve está atento às oportunidades de formação continuada que surgem.
- E) Por que um emprego público? Pense bem sobre suas razões, pois esse porquê é tudo.

TEXTO 2**Furto de flor**

Furtei uma flor daquele jardim. O porteiro do edifício cochilava, e eu furtei a flor.

Trouxe-a para casa e coloquei-a no copo com água. Logo senti que ela não estava feliz. O copo destina-se a beber, e flor não é para ser bebida.

Passei-a para o vaso, e notei que ela me agradecia, revelando melhor sua delicada composição. Quantas novidades há numa flor, se a contemplarmos bem.

Sendo autor do furto, eu assumira a obrigação de conservá-la. Renovei a água do vaso, mas a flor empalidecia. Temi por sua vida. Não adiantava restituí-la ao jardim. Nem apelar para o médico de flores. Eu a furtara, eu a via morrer.

Já murcha, e com a cor particular da morte, peguei-a docemente e fui depositá-la no jardim onde desabrochava. O porteiro estava atento e repreendeu-me.

– Que ideia a sua, vir jogar lixo de sua casa neste jardim!

ANDRADE, Carlos Drummond de. *Contos plausíveis*. Rio de Janeiro: Record, 1991. p. 76.

19. Para uma leitura adequada do Texto 2, é indispensável a apreciação de seus recursos expressivos. Acerca de tais recursos, analise as afirmativas a seguir:

1. O tom sério, confessional, como o narrador assume o seu “crime” só pode ser admitido se o texto for considerado no plano ficcional, literário.
2. A linguagem rebuscada, rigorosamente atenta à norma culta, destoa da situação narrativa a tal ponto que impede que a história possa ser aceita, mesmo como ficção.
3. A flor aparece no texto como elemento personificado, isto é, com características e ações humanas, como “não estar feliz”, “agradecer” e “empalidecer”.
4. A percepção do porteiro em relação à flor, revelada por sua fala no desfecho da história, coincide com os sentimentos e a percepção fantasiosa do narrador.

Estão CORRETAS, apenas:

- A) 1 e 2.
- B) 1 e 3.
- C) 1, 3 e 4.
- D) 2 e 3.
- E) 2, 3 e 4.

20. Assinale a alternativa em que todas as formas verbais estão CORRETAMENTE flexionadas.

- A) Se nós mantêssemos vigilância constante nos jardins da cidade, não haveria tantas flores roubadas.
- B) Um homem tentou roubar uma flor do jardim, mas o vigilante entrevistou e não permitiu o roubo.
- C) Nós requisemos nosso dinheiro de volta quando compramos flores e elas logo murcharam.
- D) Se você vier a minha casa, por favor, não traga flores roubadas de algum jardim.
- E) É tão interessante saber que as pessoas se entreteram com uma simples flor!

21. Em situações informais, como a que se apresenta no final do Texto 2, a forma de tratamento mais frequentemente empregada no Brasil é “você”. Porém, em situações mais formais, a hierarquia é marcada por formas de tratamento especiais. Em uma comunicação escrita, oficial, dirigida a uma autoridade do alto escalão militar, a forma de tratamento recomendada pela norma-padrão é:

- A) Senhor Coronel.
- B) Coronel (seguido do sobrenome da autoridade).
- C) Vossa Excelência.
- D) Vossa Senhoria.
- E) Vossa Magnificência.


22. Algumas formas verbais recebem acento gráfico quando se ligam a pronomes átonos, como “conservá-la”. Assinale a alternativa em que a forma verbal está CORRETAMENTE acentuada ou está, CORRETAMENTE, sem acento gráfico.

- A) Não gosto muito da bolsa que comprei. Resolvi da-la de presente.
- B) Li um texto maravilhoso em inglês. Estou pensando em traduzí-lo.
- C) Já lhe disse o recado duas vezes e agora tenho que repetí-lo novamente.
- D) Apesar de gostar muito da minha casa, sei que algum dia terei que vendê-la.
- E) Conheci um servidor público excepcional. Era preciso distinguí-lo dos demais.

23. Sabemos que a vírgula pode ser empregada, também, como um recurso estilístico. No Texto 2, por exemplo, a vírgula é facultativa no seguinte trecho:

- A) “Renovei a água do vaso, mas a flor empalidecia.”
- B) “O porteiro do edifício cochilava, e eu furtei a flor.”
- C) “Eu a furtara, eu a via morrer.”
- D) “Sendo autor do furto, eu assumira a obrigação de conservá-la.”
- E) “– Que ideia a sua, vir jogar lixo de sua casa neste jardim!”

TEXTO 3



<http://www.conexaocidade.com/2016/12/stj-decide-que-desacato-servidor.html>.

Acesso em: 08/07/2018.

24. Na leitura e interpretação do Texto 3, o leitor deve considerar tanto o texto verbal (o que é composto pelas palavras) quanto o texto não verbal, isto é, as imagens e os demais recursos gráficos. Sobre o modo como os recursos verbais e os não verbais são empregados no Texto 3, analise as afirmativas a seguir.

1. No texto verbal, o emprego do recurso gráfico das letras maiúsculas (DESACATO) pretende destacar o tema.
2. Na figura humana da direita, os três traços próximos ao rosto e o dedo em riste indicam movimento e uma postura ativa, agressiva. Tais recursos são apropriados para representar um ataque ao funcionário.
3. Imagens no balão de fala da figura humana à direita, como cobra e bomba, além de sobranceiras arqueadas e dentes à mostra, são recursos que conferem agressividade à cena.
4. As duas figuras humanas se assemelham, tanto pelos traços estilísticos do artista quanto pela postura igualmente passiva, como tais figuras são retratadas no texto.

Estão CORRETAS:

- A) 1, 2 e 3, apenas.
- B) 1, 2 e 4, apenas.
- C) 1, 3 e 4, apenas.
- D) 2, 3 e 4, apenas.
- E) 1, 2, 3 e 4.

25. Releia este trecho da parte verbal do Texto 3:

“Ofender um funcionário público que está exercendo seu trabalho é crime de desacato.”.

Com o segmento destacado, o autor pretendeu:

- A) especificar a situação em que o funcionário público está acobertado pela lei: quando está trabalhando.
- B) justificar as razões por que a lei considera o desacato um crime: porque o funcionário está trabalhando.
- C) inserir um trecho conclusivo: quem ofende funcionário público durante o trabalho comete crime.
- D) destacar as consequências advindas do desacato: quem o cometer será considerado criminoso.
- E) apresentar a condição necessária para o agressor ser punido: o funcionário tem que exercer uma função.

26. No território do Estado de Pernambuco, ainda hoje é possível encontrar diversos sítios arqueológicos que datam do período pré-colonial. Neles, foram encontrados objetos líticos, figuras rupestres, restos de fogueiras e alimentos, urnas funerárias e mais uma série de outros materiais que contribuí para se entender a ocupação territorial desse Estado, antes das primeiras invasões europeias.

Em relação aos sítios arqueológicos de Pernambuco, assinale a alternativa CORRETA.

- A) O Brejo da Madre de Deus não possui sítios arqueológicos com a presença de enterramentos primário e/ou secundário. Todavia, foram encontradas figuras rupestres em mais de cem sítios espalhados pelo distrito de São Domingos. Dentre eles, podemos citar a Furna do estrago, a Pedra da Lua e a Pedra do Letreiro.
- B) No município de Bom Jardim, encontram-se os sítios Pedra da Lourdes, Pedra do Mocozeiro e Pedra do Urubu, todos com a presença de figuras rupestres. Nessa cidade, também se encontra o sítio do Chã de Caboclo, que se caracteriza por inscrições da tradição Itacoatiara.
- C) Em Jataíba, em algumas das nascentes do Capibaribe, encontram-se sítios arqueológicos com figuras rupestres, como a furna dos Negros e a Pedra do Muquém. Neles foram encontradas as datações da ocupação pré-colonial mais antigas do Nordeste.
- D) Na ilha de Itamaracá, está localizada a maior concentração de sambaquis do litoral brasileiro. Essas formações eram compostas por restos de conchas e utilizadas para enterrar os mortos, o que sinaliza uma densa ocupação humana na região.
- E) No município de Venturosa, localizado no agreste pernambucano, está localizado o Sítio da Pedra Furada. Em ambos os lados do arco da Pedra Furada, existem registros de pinturas rupestres. Em seu lado sul, foi encontrado “o flautista”, homem enterrado com um objeto semelhante a uma flauta de osso.

27. “Curiosamente, a modalidade inicial que o sentimento nativista assume nas crônicas do primeiro século de colonização (1532-1630) não consiste, como ocorrerá adiante, na afirmação da originalidade da nova terra, mas ao contrário no orgulho pela lusitanidade que já caracterizaria a vida cotidiana nos principais núcleos de povoamento.”

(MELLO, Evaldo Cabral. “Uma Nova Lusitânia. In: MOTA, Carlos Guilherme. Viagem Incompleta: a experiência brasileira (1500-2000).


Em relação ao primeiro século de colonização, assinale a alternativa CORRETA.

- A) A expansão territorial da capitania de Pernambuco se deveu mais ao seu primeiro donatário, Duarte Coelho, que a seus filhos e cunhado, Jerônimo de Albuquerque. Estes se detiveram a consolidar a região habitada.
- B) A conquista da porção interiorana da capitania de Pernambuco, principalmente a região designada por sertões, foi facilitada pela docilidade dos grupos indígenas que ali habitavam.
- C) Em Igarassu, ainda na primeira metade do século XVI, os colonos portugueses enfrentaram a resistência dos nativos, que cercaram essa vila por muitos dias, tendo que contar com o apoio dos que habitavam em Itamaracá para romper o cerco indígena.
- D) Os franceses foram grandes aliados dos portugueses na defesa do norte do Brasil e da Guiana Francesa. Em Pernambuco, por exemplo, as tropas dessas duas nações repeliram os caetés.
- E) Como a sociedade era extremamente patriarcal, o comando da capitania de Pernambuco, quando da ausência de Duarte Coelho, ficava sob a responsabilidade do seu cunhado, uma vez que D. Beatriz de Albuquerque, sua esposa, era considerada inapta à tarefa.

28. Maurício de Nassau, “...além de ser o chefe militar que a Holanda precisava para governar as províncias brasileiras invadidas, produtoras do açúcar tão cobiçado pela Europa, era também um homem culto, que quis cercar-se de cientistas e artistas talentosos para registrar o desconhecido que o aguardava, adivinhando de antemão o grande interesse que esta documentação despertaria entre os nobres europeus quando de sua volta à Holanda.”

(http://www.mundoatlantico.org/coloquiobrasilholandes/DOWNLOAD/vieira-BRASIL_HOLANDES-2012.pdf).

Um dos artistas trazidos por Nassau foi o autor da tela “Vista da Cidade Maurícia”, pintada em 1657.



(https://www.google.com.br/search?q=pinturas+de+post+sobre+o+recife&rlz=1C1OKWM_pt-BRBR792BR792&tbm=isch&source=iu&ictx=1&fir=KwTBu1pa89RCMM%253A%252CuxRqWmh2phAeKM%252C_&usg=__O3M1LyXy_KxEVkt2Z4tcEA4aKYc%3D&sa=X&ved=2ahUKEwiewcDQ6qPcAhUFpFkKHbqVC-wQ9QEwAHoECAQQBA#imgsrc=KwTBu1pa89RCMM).

Em qual alternativa está indicado o nome do autor dessa obra?

- A) Albert Eckhout
- B) Jean B. Debret
- C) Caspar Schamkalden
- D) Frans Post
- E) Felipe Bettendorff

29. “O ponto alto sobre as tensões entre a açucarocracia de Olinda e a Coroa se dá quando esta resolve em 1709 criar uma nova municipalidade vizinha à olindense: a Câmara Municipal do Recife. Desde a segunda metade do século XVII, havia uma clara oposição entre os comerciantes reinóis do Recife e os senhores de engenho de Olinda, estes representantes da nobreza das terras...”

(https://repositorio.ufpe.br/bitstream/123456789/7578/1/arquivo6576_1.pdf)

O texto acima faz referência à “Guerra dos Mascates”, conflito, que colocou, em lados opostos, os senhores de engenho e os comerciantes reinóis. Em relação a esse episódio, é CORRETO afirmar que

- A) a criação de uma nova municipalidade em atendimento às demandas dos comerciantes reinóis gerou grande insatisfação à açucarocracia olindense, que queria reservar a si não apenas honrarias e privilégios especiais como também o controle político da capitania.
- B) mesmo tendo saído derrotados na “Guerra dos Mascates”, os senhores de engenho de Olinda não se abateram, pois não perderam o controle sobre a recém criada Câmara do Recife.
- C) com seu fim, as elites comerciais de Recife e as latifundiárias de Olinda restabeleceram os laços graças à ativa influência da administração lusa, a quem não interessava financeiramente a desunião de comerciantes e produtores de açúcar.
- D) influenciados pelas ideias revolucionárias que circulavam pela Europa, os senhores de engenho de Olinda defenderam os interesses da capitania, reafirmando o sentimento de identidade nacional do Brasil.
- E) considerado pela historiografia como um movimento liberal, buscava conservar a maior autonomia da Câmara de Olinda em relação à administração lusitana, algo que os pernambucanos conservavam desde o período duartino.

30. Para Celso Furtado, “Cada um dos problemas referidos – técnica de produção, criação de mercado, financiamento, mão-de-obra – pôde ser resolvido no tempo oportuno, independentemente da existência de um plano geral preestabelecido. O que importa ter em conta é que houve um conjunto de circunstâncias favoráveis sem o qual a empresa não teria conhecido o enorme êxito que alcançou.”

(FURTADO, Celso. Formação Econômica do Brasil.)

Em relação à economia açucareira no período colonial, assinale a alternativa CORRETA.

- A) Sem possuir uma experiência concreta no cultivo e produção do açúcar, Portugal, inicialmente, teve dificuldades em implementar o empreendimento açucareiro no território da Capitania de Pernambuco.
- B) A mentalidade da colonização portuguesa fez com que os recursos obtidos no comércio do açúcar fossem transferidos para a metrópole, não permitindo o desenvolvimento da Capitania de Pernambuco nem altos investimentos na produção açucareira.
- C) Muito importante para a comercialização do açúcar durante o “Período holandês”, os cristãos novos de origem judaica praticamente não tiveram acesso ao tráfico do açúcar no período colonial em Pernambuco, pois a Santa Inquisição proibia a participação destes.
- D) Os escravos africanos, ao contrário dos indígenas da América Portuguesa, não estavam habituados a manejar lavouras destinadas à produção capitalista, o que dificultou, mas não impossibilitou, a introdução daqueles no empreendimento do açúcar.
- E) Duarte Coelho assumiu um papel agressivo no lançamento do empreendimento açucareiro na Capitania de Pernambuco, trazendo para esta artesãos e especialistas das ilhas do Atlântico.

31. Ao sair da província de Pernambuco, Darwin, cientista inglês, escreveu em diário, que posteriormente daria origem ao livro “A Origem das Espécies”: *“No dia 19 de agosto, finalmente deixamos a costa do Brasil. Eu agradeço a Deus, nunca mais ter que visitar um país escravista.”*

(Charles Darwin).

A história do Brasil está marcada pela presença da mão de obra escrava e de tudo o que ela representou para seu desenvolvimento econômico e cultural.

Em relação ao tráfico de escravos para as terras pernambucanas, é CORRETO afirmar que

- A) na primeira metade do século XIX, a dinâmica do tráfico atlântico de escravos envolvia uma série de produtos, que eram levados pelos navios saídos da província de Pernambuco, rumo aos portos africanos. Dentre esses produtos, havia, inclusive, artigos das manufaturas europeias e norte-americanas.
- B) a lei de 7 de novembro de 1831, que declarava livre todos os escravos vindos de fora a partir daquela data, não impactou o comércio escravista de Pernambuco, pois estes continuaram sendo desembarcados nos portos desta província, sem qualquer fiscalização.
- C) os dados sobre a importação de escravos entre os anos de 1815 e 1824 sugerem que tanto a Insurreição Pernambucana de 1817 como a Confederação do Equador (1824) diminuíram consideravelmente a entrada da mão de obra escrava. Em 1817, por exemplo, houve uma queda de cinquenta por cento em relação a 1815.
- D) os tratados de 1826 assinados entre Brasil e Inglaterra previam o fim do comércio atlântico de escravos em três anos. A partir daí, o número de importações cairia até não se registrar mais a entrada de africanos escravizados pós 1850.
- E) após várias revisões historiográficas, hoje é possível se afirmar que, ao menos na capitania de Pernambuco, o único fator que contribuiu para o fim do tráfico atlântico de escravos foi a pressão internacional.

32. “Embora não tivessem sido as únicas formas de resistência coletiva sob a escravidão, a revolta e a formação de quilombos foram das mais importantes. Apesar de muitos quilombos terem se formado aos poucos, através da adesão de fugitivos individuais ou agrupados, outros tantos resultaram de fugas coletivas iniciadas em revoltas. Tal parece ter sido, por exemplo, o caso de Palmares.”

(REIS, João José. Quilombos e revoltas escravas no Brasil.)

Certamente o quilombo do Palmares foi e ainda é considerado um marco da resistência escrava em Pernambuco, por todo significado e simbologia que existe em relação a ele. Todavia, ele não foi a única forma de resistência que os escravos africanos desenvolveram em solo pernambucano.

Sobre esse assunto, é CORRETO afirmar que

- A) as atividades atribuídas a alguns escravos acabavam por facilitar uma possível fuga. Um escravo que trabalhava vendendo mercadorias precisava de maior mobilidade e flexibilidade em relação ao horário, possuindo maiores chances de se distanciar, antes que o dono soubesse o que, de fato, havia acontecido.
- B) o quilombo do Catucá, que se localizava nas proximidades das cidades do Recife e Olinda, foi um dos maiores problemas para as autoridades provinciais durante quase toda a segunda metade do século XIX.
- C) apesar de a capoeira ser vista hoje como uma luta, ela não era praticada pelos escravos como forma de resistência. Nessa época, estava muito mais ligada ao lado lúdico e de diversão.
- D) o processo de catequese pelos quais passavam os escravos africanos permitiu que a religião africana praticamente desaparecesse do Brasil, no período imperial. Poucos eram os escravos que resistiam e continuavam a homenagear os orixás.
- E) ao contrário do medo existente entre os habitantes da Bahia e do Rio de Janeiro, a população de Pernambuco não estava assombrada por um grande levante de escravos, aos moldes do que ocorreu no Haiti. Isso se justificava pela enorme repressão exercida contra os escravos rebeldes na capitania de Pernambuco.

33. “Ciente da importância política de Pernambuco, Vargas apontou como interventor no estado precisamente o maior desafeto do governador deposto, Agamenon, figura de sua maior confiança, empossado no dia 2 de dezembro de 1937...”.

(SOUZA NETO, José Maria. Sonhos de Nabucodonosor: um ensaio sobre Estado Novo e propaganda em Pernambuco).

Sobre o período da Interventoria de Agamenon Magalhães em Pernambuco, é CORRETO afirmar que

- A) seguindo o que ocorria nacionalmente, a interventoria de Agamenon fazia do primeiro de maio uma das datas mais comemoradas, instando trabalhadores e donos de fábricas a marcharem juntos, como forma de demonstrar o sentimento cooperativista.
- B) o Recife já em finais da década de 30 havia praticamente erradicado a pobreza; era agora a “Veneza americana”, onde seus habitantes podiam usufruir das comodidades e facilidades de uma cidade moderna.
- C) durante o período que Magalhães esteve à frente do governo estadual, uma verdadeira expulsão da pobreza teve lugar nas áreas centrais da cidade. Os moradores dos famosos mocambos foram remetidos para casas doadas pelo Estado. A mentalidade é que tanto ricos como pobres deveriam ser beneficiados igualmente pelo governo.
- D) apesar da censura que existia nos meios de comunicação nacional, em Pernambuco, os jornais praticamente não sofreram com tais medidas. Existia uma verdadeira admiração pela administração de Agamenon, o que resultava em poucas críticas ao seu governo.
- E) nesse período, houve um esforço por parte do governo para introduzir a cultura popular como traço característico do povo de Pernambuco. Para isso, foram criadas exposições artísticas, em que se apresentavam a arte popular, bem como a Liga Carnavalesca, visando incluir as camadas médias e as elites no “brinquedo” do povo.

34. No dia 1 de abril de 1964, o Brasil começava a vivenciar uma história que se estenderia até 1985, período esse denominado de ditadura, ditatorial ou ainda anos de “chumbo”; desse modo, desenvolver-se-ia, assim, uma história de lutas de confrontos diretos e indiretos. Essas lutas se davam no intuito de sobrepor o poder que o Estado exercia sobre a população através de um governo opressor, evidenciando os constantes combates urbanos, que se davam na forma explícita de repressão.

(http://www.sul2013.historiaoral.org.br/resources/anais/2/1267925985_ARQUIVO_ArtigoCompletoaserenviadoaoXEncontroNacionaldeHistoriaOral.pdf).

Em relação a esse tema, assinale a alternativa CORRETA.

- A) Dom Hélder Câmara, à frente da Arquidiocese de Recife e Olinda, adotou uma postura imparcial em relação ao regime civil-militar instaurado em 1964. Ele fazia parte de setores da Igreja Católica que buscavam se aproximar do regime, já que este defendia os ideais cristãos.
- B) Durante muito tempo relacionada aos militares, a morte obscura do padre Henrique foi investigada pela Comissão da Verdade e por alguns historiadores. Foi concluído, entretanto, que os militares não tiveram envolvimento nesse episódio, contrariando, assim, a historiografia marxista.
- C) Politicamente alheia às transformações e perturbações políticas que aconteciam, as camadas populares, assim como ocorreu no episódio da proclamação da república, assistiram atônita à ruptura democrática.
- D) Francisco Julião (1965-1969), considerado por muitos como um dos mais radicais líderes de esquerda no período pré-1964, no Brasil, dirigente das Ligas Camponesas e deputado socialista, foi exilado para o México em 1965.
- E) Após as investigações iniciadas pela inteligência das forças armadas, vários ex-integrantes das ligas camponesas foram presos sob a acusação de serem guerrilheiros. De fato, documentos da época comprovam a ida de vários deles para Cuba, onde receberam treinamento militar.

35. Segundo a historiadora Isabel Guillen ao se caminhar “...pelas ruas do Recife lembramos que a cidade foi palco de mais de trezentos anos de escravidão de populações africanas e seus descendentes... [Mas], parece que a história da escravidão e da cultura negra, herança da diáspora, permanece invisibilizada na cidade. Qualquer pessoa que transita pela cidade, seja um jovem estudante ou turista, encontrará parcas referências à história da escravidão e da cultura negra na região metropolitana do Recife: o busto de Zumbi na praça do Carmo, a estátua de Solano Lopes no Pátio de São Pedro; Dona Santa na praça defronte à rua Vidal de Negreiros, a Igreja de Nossa Senhora do Rosários dos Homens Pretos, alguns baobás plantados em praças na cidade... E pouco nada mais do que isso.”

(http://www.encontro2018.historiaoral.org.br/resources/anais/8/1524268689_ARQUIVO_Lugaresdememoriadaculturanebraguillen.pdf)

Em relação às manifestações culturais afrodescendentes do Recife, assinale a alternativa CORRETA.

- A) As práticas religiosas que foram elaboradas e (re)elaboradas pelos africanos escravizados e libertos e pelos seus descendentes ficaram conhecidas pela designação de religiões afro-brasileiras. Em Pernambuco, de uma maneira geral, essas práticas receberam o nome de xangô.
- B) O maracatu, segundo os historiadores, surgiu na capitania de Pernambuco, ainda no século XVI, como uma forma de dança ritual na qual os homens definiam suas futuras esposas.
- C) Ao contrário de outras manifestações culturais, o maracatu, graças à atuação da liga carnavalesca e de alguns folcloristas, pôde conservar sua forma de expressão. Assim, os atuais grupos de maracatus são praticamente idênticos aos que existiram ao longo do século XIX.
- D) A capoeira, apesar de ter surgido na África, teve, no Brasil, uma grande disseminação entre os escravos, que a praticavam como forma de luta. Após seus primeiros registros terem sido feitos na Bahia, chegou ao estado de Pernambuco possivelmente em finais do século XIX.
- E) As religiões africanas, introduzidas pelos escravos em Pernambuco, tiveram relativa liberdade, o que justifica, em certa medida, a sua existência até os dias de hoje.

36. Sobre os direitos e deveres individuais e coletivos, o art. 5º da Constituição Federal de 1988 assim prevê: “*Todos são iguais perante a lei, sem distinção de qualquer natureza, garantindo-se aos brasileiros e aos estrangeiros residentes no País a inviolabilidade do direito à vida, à liberdade, à igualdade, à segurança e à propriedade (...)*”.

Partindo desse pressuposto, analise as assertivas a seguir:

- I. Embora a Constituição direcione os referidos direitos apenas aos estrangeiros residentes no país, há consenso no ordenamento jurídico brasileiro de que esses direitos também valem igualmente para os estrangeiros que se encontrem em território nacional, mesmo que não residam no Brasil.
- II. O direito à liberdade delimita-se pela liberdade física, de ir e vir, não abrangendo a liberdade de pensamento.
- III. O princípio da igualdade não veda que determinada lei estabeleça tratamento diferenciado entre pessoas que guardem distinções de ordem econômica, social, étnica, dentre outras, desde que haja razoabilidade na medida.
- IV. O sistema de cotas previsto em seleções públicas é um exemplo da aplicação do princípio da igualdade formal.

Estão CORRETAS

- A) I e II, apenas.
- B) I e III, apenas.
- C) III e IV, apenas.
- D) II, III e IV, apenas.
- E) I, II, III e IV.

37. Acerca do direito à inviolabilidade domiciliar, analise as proposições a seguir:

- I. Mesmo que exista uma determinação judicial válida para diligenciar dentro de determinado domicílio, ela não poderá ser realizada durante a noite, mesmo com o consentimento do morador.
- II. Em situação de flagrante delito, é possível ingressar numa residência durante a madrugada, dispensando-se o consentimento do morador.
- III. Não configura violação de domicílio, se um cidadão ingressar na moradia de uma pessoa para prestar socorro, todavia esse fato deve ocorrer durante o dia.
- IV. Em caso de desastre, é possível ingressar a qualquer hora do dia ou da noite, em residência para prestar socorro.

Está CORRETO, apenas, o que se afirma em

- A) II.
- B) III.
- C) IV.
- D) I e III.
- E) II e IV.

38. Sobre a desapropriação expressamente prevista no capítulo dos direitos e deveres individuais e coletivos da Constituição Federal de 1988, assinale as assertivas a seguir:

- I. A desapropriação de imóvel utilizado para o cultivo de substâncias psicotrópicas tem como finalidade a necessidade pública.
- II. Na desapropriação por necessidade pública, haverá justa e prévia indenização em dinheiro.
- III. Na desapropriação por interesse social, haverá justa e prévia indenização em dinheiro.
- IV. Na desapropriação por utilidade pública, haverá justa e prévia indenização em dinheiro.

Estão CORRETAS

- A) I, II, III e IV.
- B) II, III e IV, apenas.
- C) I, III e IV, apenas.
- D) I, II e IV, apenas.
- E) I e II, apenas.

39. Sobre a instituição do júri popular prevista na Constituição de 1988, analise os itens a seguir:

- I. É assegurada a plenitude de defesa.
- II. É assegurada a publicidade das votações.
- III. É assegurada a soberania dos veredictos.
- IV. Compete ao júri o julgamento dos crimes dolosos contra a vida.

Estão CORRETOS

- A) I e II, apenas.
- B) I, II e IV, apenas.
- C) I, III e IV, apenas.
- D) II, III e IV, apenas.
- E) I, II, III e IV.

40. Sobre os crimes previstos no capítulo dos direitos e deveres individuais e coletivos da Constituição Federal de 1988 – CF/88, analise as proposições a seguir:

- I. O crime de tráfico ilícito de entorpecentes é imprescritível.
- II. O crime de racismo é inafiançável.
- III. A ação de grupos armados civis contra a ordem constitucional e o Estado Democrático não constitui crime previsto expressamente na Cf/88, posto que a Constituição somente prevê como crime a ação de grupos armados de natureza militar.
- IV. O crime de terrorismo é imprescritível.

Está CORRETO o que se afirma, apenas, em

- A) II.
- B) III.
- C) IV.
- D) I e III.
- E) II e IV.

41. Sobre os Direitos Sociais, são assegurados à categoria dos trabalhadores domésticos os seguintes direitos, EXCETO:

- A) Irredutibilidade do salário, salvo o disposto em convenção ou acordo coletivo.
- B) Duração do trabalho normal não superior a oito horas diárias e quarenta e quatro semanais.
- C) Licença paternidade.
- D) Adicional de remuneração para as atividades penosas, insalubres ou perigosas.
- E) Redução dos riscos inerentes ao trabalho por meio de normas de saúde, higiene e segurança.

42. Sobre a associação profissional ou sindical prevista no capítulo dos Direitos Sociais da Constituição Federal de 1988, assinale a alternativa INCORRETA.

- A) É prevista a exigência de registro em órgão competente.
- B) O Poder Público não poderá interferir nem intervir na organização sindical.
- C) A base territorial de uma organização sindical não pode ser inferior à área de um Município.
- D) Ao sindicato cabe a defesa dos direitos e interesses coletivos ou individuais da categoria, inclusive em questões judiciais ou administrativas.
- E) Exige-se a autorização do Estado para a fundação de sindicato.

43. Ainda sobre a associação profissional ou sindical prevista no capítulo dos Direitos Sociais da Constituição Federal de 1988 – CF/88, assinale a alternativa INCORRETA.

- A) A CF/88 discorre sobre duas formas com naturezas distintas de contribuição dos trabalhadores, uma fixada pela Assembleia Geral e a outra prevista em lei.
- B) É obrigatória a participação dos sindicatos nas negociações coletivas de trabalho.
- C) É obrigatória a filiação em sindicato.
- D) O aposentado filiado tem direito a votar e ser votado nas organizações sindicais.
- E) Dentre as garantias da estabilidade, o empregado sindicalizado que registrar a sua candidatura a cargo de direção ou representação sindical não poderá ser dispensado, salvo se cometer falta grave.

44. Acerca do capítulo da Constituição Federal de 1988 – CF/88, que trata da nacionalidade, analise as assertivas a seguir:

- I. Não será brasileira nata a pessoa que nasce em território brasileiro, cujos pais estrangeiros estejam a serviço do respectivo país.
- II. É possível o registro de nascimento como brasileiro nato, em repartição brasileira competente, de indivíduo nascido em território estrangeiro, desde que o pai ou a mãe sejam brasileiros.
- III. Um português com residência permanente no País não pode se tornar Ministro do Supremo Tribunal Federal.
- IV. Apenas a CF/88 poderá estabelecer distinção entre brasileiros natos e naturalizados.

Estão CORRETAS

- A) I, II, III e IV.
- B) I, II e III, apenas.
- C) I, III e IV, apenas.
- D) I, II e IV, apenas.
- E) I e II, apenas.

45. Sobre a nacionalidade e sua previsão na Constituição Federal de 1988 – CF/88 acerca dos requisitos para ser brasileiro naturalizado, analise as proposições a seguir:

- I. Para os originários de países de língua portuguesa, exige-se residência por um ano ininterrupto no Brasil e idoneidade moral.
- II. Para os estrangeiros que não sejam originários de países com língua portuguesa, que optarem pela naturalização, exige-se residência no Brasil há mais de quinze anos ininterruptos e sem condenação penal.
- III. A nacionalidade primária ou originária decorre de ato de vontade do indivíduo estrangeiro que busca a naturalização brasileira.
- IV. A CF/88 não permite que uma pessoa tenha mais de duas nacionalidades.

Está CORRETO o que se afirma, apenas, em

- A) II.
- B) III.
- C) IV.
- D) I e II.
- E) II e IV.

46. Sobre a nacionalidade, analise os itens a seguir:

- I.** Será declarada a perda da nacionalidade ao brasileiro que tiver cancelada sua naturalização, por sentença judicial, em virtude de atividade nociva ao interesse nacional.
- II.** O brasileiro naturalizado perderá a nacionalidade brasileira ao adquirir, pela lei estrangeira, uma outra nacionalidade de natureza originária.
- III.** O brasileiro residente em estado estrangeiro que, por imposição da norma estrangeira, adquire outra naturalização, como condição para permanência em seu território, não perderá a sua nacionalidade brasileira.
- IV.** É possível que uma pessoa não tenha qualquer nacionalidade, uma vez não se enquadrando em nenhum critério estatal que lhe atribua nacionalidade.

Estão CORRETOS

- A) I e II, apenas.
- B) I, II e IV, apenas.
- C) I, III e IV, apenas.
- D) II, III e IV, apenas.
- E) I, II, III e IV.

47. Sobre os direitos políticos, analise as assertivas a seguir:

- I.** O direito ao sufrágio representa uma via de mão dupla, ou seja, a capacidade de votar e de ser votado.
- II.** Dentre as diferenças entre plebiscito e referendo, observa-se que, no primeiro, a consulta popular ocorre após a realização do ato legislativo ou administrativo.
- III.** A capacidade eleitoral passiva consiste no direito de ser votado.
- IV.** O cidadão que não completou a idade mínima para concorrer a determinado cargo público eletivo incorre numa das hipóteses de inelegibilidade.

Estão CORRETAS

- A) I, II, III e IV.
- B) I, III e IV, apenas.
- C) III e IV, apenas.
- D) II e IV, apenas.
- E) I e II, apenas.

48. Sobre os militares e os direitos políticos, analise as proposições a seguir:

- I.** O militar pode ser alistável, todavia, durante o período do serviço militar obrigatório, os conscritos são inalistáveis.
- II.** O militar alistável é elegível. Assim, se contar menos de dez anos de serviço, deverá afastar-se da atividade.
- III.** O militar alistável é elegível. Assim, se contar mais de dez anos de serviço, será agregado pela autoridade superior.
- IV.** O militar eleito passará, automaticamente, no ato da diplomação, para a inatividade.

Estão CORRETAS

- A) I, II, III e IV.
- B) I, III e IV, apenas.
- C) III e IV, apenas.
- D) II e IV, apenas.
- E) I e II, apenas.

49. Sobre os partidos políticos e a previsão constitucional, observe o que dispõe o Parágrafo Primeiro do artigo 17 da Constituição Federal:

“É assegurada aos partidos políticos autonomia para definir sua estrutura interna e estabelecer regras sobre escolha, formação e duração de seus órgãos permanentes e provisórios e sobre sua organização e funcionamento e para adotar os critérios de escolha e o regime de suas coligações nas eleições majoritárias, vedada a sua celebração nas eleições proporcionais, sem obrigatoriedade de vinculação entre as candidaturas em âmbito nacional, estadual, distrital ou municipal, devendo seus estatutos estabelecer normas de disciplina e fidelidade partidária.”

O trecho em destaque demonstra que

- A) atualmente os Partidos políticos podem se sujeitar às regras de coligação para as eleições proporcionais.
- B) qualquer coligação horizontal é vedada pela Constituição Federal.
- C) os partidos políticos não têm liberdade de escolha para definir o regime de suas coligações.
- D) uma coligação estadual deve se sujeitar a uma mesma coligação municipal, em respeito ao Princípio da Simetria.
- E) a Constituição permite que o partido político vincule-se a diferentes coligações no âmbito vertical das eleições majoritárias.

50. Ainda sobre os partidos políticos, analise as assertivas a seguir:

- I. O partido político deve respeitar o caráter nacional.
- II. A primeira etapa para a criação de um partido político consiste no registro do seu estatuto no Tribunal Superior Eleitoral.
- III. A segunda etapa para a criação de um partido político consiste em adquirir a sua personalidade jurídica na forma da lei civil.
- IV. É vedada a utilização pelos partidos políticos de organização paramilitar.

Está CORRETO o que se afirma, apenas, em

- A) II.
- B) III.
- C) IV.
- D) I e IV.
- E) II e III.

51. Determinado setor abastece diariamente sua frota com gasolina, diesel e etanol. Sabe-se que a quantidade diária de litros de etanol é o triplo da de gasolina; a de etanol e diesel juntas é de 300 litros; e a de diesel e gasolina soma 200 litros.

Quantos litros de combustível esse setor abastece diariamente?

- A) 350
- B) 600
- C) 450
- D) 500
- E) 300

52. Para formar uma comissão com quatro policiais militares, estarão à disposição cinco oficiais e quatro praças. Quantas comissões distintas poderão ser formadas, de maneira que, em cada uma delas, haja, pelo menos, um oficial?

- A) 225
- B) 20
- C) 60
- D) 125
- E) 120

53. Foram abertas 18 turmas de um novo curso que ocorrerá em três turnos. A quantidade de turmas disponíveis para tarde, manhã e noite segue, nessa ordem, uma progressão aritmética de razão 4. Quantas turmas serão formadas para o turno da noite?

- A) 8
 - B) 10
 - C) 6
 - D) 2
 - E) 12
-

54. Supondo que uma taxa de juros mensal da poupança seja de 0,7%, foram depositados R\$ 1.500,00 em 01 de agosto de 2018.

Se não se fizer nenhuma retirada, no aniversário de 3 meses, o montante será de

- A) R\$ 1.815,00
 - B) R\$ 1.527,50
 - C) R\$ 1.770,00
 - D) R\$ 1.950,30
 - E) R\$ 1.531,50
-

55. Dos 500 aprovados em um concurso, 205 falam inglês, 210, espanhol, e 65, ambos os idiomas. Escolhendo ao acaso um dos aprovados, qual a probabilidade de ele não falar nenhum desses idiomas?

- A) 40%
 - B) 25%
 - C) 30%
 - D) 45%
 - E) 35%
-

56. Uma fábrica inaugurou sua produção com 4 itens. Sabendo-se que a quantidade de itens produzidos pela fábrica em cada ano consecutivo obedece a uma progressão geométrica e que, no quinto ano, foram produzidos 324 itens, qual a soma total de itens fabricados nesses cinco primeiros anos?

- A) 434
 - B) 844
 - C) 448
 - D) 848
 - E) 484
-

57. O valor inicial da previdência privada de Lucas será R\$ 200,00, e a esse valor serão acrescentados R\$ 10,00 mensalmente.

Qual o valor total depositado quando essa previdência completar 3 anos?

- A) R\$ 13.500,00
 - B) R\$ 550,00
 - C) R\$ 27.000,00
 - D) R\$ 1.100,00
 - E) R\$ 8.700,00
-

**58. Um dado não viciado de 6 faces regulares, cada qual com um número (1, 2, 3, 4, 5, 6), foi lançado aleatoriamente por 4 vezes, e a cada lançamento teve seu resultado anotado.
A probabilidade de que, em todos os lançamentos, o número anotado seja menor que 3 é de**

- A) $2/9$
 - B) $2/27$
 - C) $1/87$
 - D) $1/81$
 - E) $1/131$
-

**59. Uma determinada aeronave pode acomodar até 348 passageiros e dispõe de 63 filas de assentos; algumas com 3, outras com 6 poltronas.
Quantas filas com 6 poltronas existem nessa aeronave?**

- A) 10
 - B) 53
 - C) 58
 - D) 34
 - E) 38
-

**60. O valor da fatura de um cartão de crédito era de R\$ 1.200,00. Tendo sido paga com dois meses de atraso, o cartão de crédito cobrou juros compostos de 17% ao mês.
Quanto foi o montante pago?**

- A) R\$ 1.241,14
 - B) R\$ 1.505,28
 - C) R\$ 1.642,68
 - D) R\$ 1.452,00
 - E) R\$ 1.228,97
-

CADERNO 03